

**ПРОЕКТ**  
Единый государственный экзамен по МАТЕМАТИКЕ

**Демонстрационный вариант**  
контрольных измерительных материалов  
единого государственного экзамена 2019 года  
по математике

**Профильный уровень**

подготовлен Федеральным государственным бюджетным  
научным учреждением

«ФЕДЕРАЛЬНЫЙ ИНСТИТУТ ПЕДАГОГИЧЕСКИХ ИЗМЕРЕНИЙ»

**Единый государственный экзамен по МАТЕМАТИКЕ**

**Пояснения к демонстрационному варианту  
контрольных измерительных материалов для единого государственного  
экзамена 2019 года по МАТЕМАТИКЕ**

При ознакомлении с демонстрационным вариантом контрольных измерительных материалов ЕГЭ 2019 г. следует иметь в виду, что задания, включённые в него, не отражают всех вопросов содержания, которые будут проверяться с помощью вариантов КИМ в 2019 г. Полный перечень вопросов, которые могут контролироваться на едином государственном экзамене 2019 г., приведён в кодификаторе элементов содержания и требований к уровню подготовки выпускников образовательных организаций для проведения единого государственного экзамена 2019 г. по математике.

Назначение демонстрационного варианта заключается в том, чтобы дать возможность любому участнику ЕГЭ и широкой общественности составить представление о структуре будущих КИМ, количестве заданий, об их форме и уровне сложности. Приведённые критерии оценки выполнения заданий с развёрнутым ответом, включённые в этот вариант, дают представление о требованиях к полноте и правильности записи развёрнутого ответа.

Эти сведения позволят выпускникам выработать стратегию подготовки к ЕГЭ.



- 4 В сборнике билетов по биологии всего 25 билетов. Только в двух билетах встречается вопрос о грибах. На экзамене выпускнику достаётся один случайно выбранный билет из этого сборника. Найдите вероятность того, что в этом билете будет вопрос о грибах.

Ответ: \_\_\_\_\_.

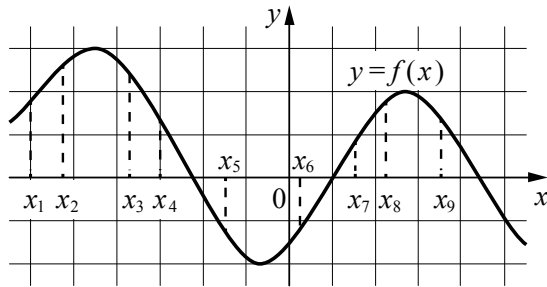
- 5 Найдите корень уравнения  $3^{x-5} = 81$ .

Ответ: \_\_\_\_\_.

- 6 Треугольник  $ABC$  вписан в окружность с центром  $O$ . Угол  $BAC$  равен  $32^\circ$ . Найдите угол  $BOC$ . Ответ дайте в градусах.

Ответ: \_\_\_\_\_.

- 7 На рисунке изображён график дифференцируемой функции  $y = f(x)$ . На оси абсцисс отмечены девять точек:  $x_1, x_2, \dots, x_9$ .



Найдите все отмеченные точки, в которых производная функции  $f(x)$  отрицательна. В ответе укажите количество этих точек.

Ответ: \_\_\_\_\_.

- 8 В первом цилиндрическом сосуде уровень жидкости достигает 16 см. Эту жидкость перелили во второй цилиндрический сосуд, диаметр основания которого в 2 раза больше диаметра основания первого. На какой высоте будет находиться уровень жидкости во втором сосуде? Ответ выразите в см.

Ответ: \_\_\_\_\_.

**Не забудьте перенести все ответы в бланк ответов № 1.**

### Часть 2

- 9 Найдите  $\sin 2\alpha$ , если  $\cos \alpha = 0,6$  и  $\pi < \alpha < 2\pi$ .

Ответ: \_\_\_\_\_.

- 10 Локатор батискафа, равномерно погружающегося вертикально вниз, испускает ультразвуковой сигнал частотой 749 МГц. Приёмник регистрирует частоту сигнала, отражённого от дна океана. Скорость погружения батискафа (в м/с) и частоты связаны соотношением

$$v = c \cdot \frac{f - f_0}{f + f_0},$$

где  $c = 1500$  м/с — скорость звука в воде;  $f_0$  — частота испускаемого сигнала (в МГц);  $f$  — частота отражённого сигнала (в МГц). Найдите частоту отражённого сигнала (в МГц), если батискаф погружается со скоростью 2 м/с.

Ответ: \_\_\_\_\_.

- 11 Весной катер идёт против течения реки в  $1\frac{2}{3}$  раза медленнее, чем по течению. Летом течение становится на 1 км/ч медленнее. Поэтому летом катер идёт против течения в  $1\frac{1}{2}$  раза медленнее, чем по течению. Найдите скорость течения весной (в км/ч).

Ответ: \_\_\_\_\_.

- 12 Найдите точку максимума функции  $y = \ln(x+4)^2 + 2x + 7$ .

Ответ: \_\_\_\_\_.



**Не забудьте перенести все ответы в бланк ответов № 1 в соответствии с инструкцией по выполнению работы. Проверьте, что каждый ответ записан в строке с номером соответствующего задания.**

Для записи решений и ответов на задания 13–19 используйте **БЛАНК ОТВЕТОВ № 2**. Запишите сначала номер выполняемого задания (13, 14 и т. д.), а затем полное обоснованное решение и ответ. Ответы записывайте чётко и разборчиво.

13 а) Решите уравнение

$$2 \sin \left( x + \frac{\pi}{3} \right) + \cos 2x = \sqrt{3} \cos x + 1.$$

б) Укажите корни этого уравнения, принадлежащие отрезку  $\left[ -3\pi; -\frac{3\pi}{2} \right]$ .

14 Все рёбра правильной треугольной призмы  $ABCA_1B_1C_1$  имеют длину 6. Точки  $M$  и  $N$  — середины рёбер  $AA_1$  и  $A_1C_1$  соответственно.

- а) Докажите, что прямые  $BM$  и  $MN$  перпендикулярны.  
 б) Найдите угол между плоскостями  $BMN$  и  $ABB_1$ .

15 Решите неравенство  $\log_{11} (8x^2 + 7) - \log_{11} (x^2 + x + 1) \geq \log_{11} \left( \frac{x}{x+5} + 7 \right)$ .

16 Две окружности касаются внешним образом в точке  $K$ . Прямая  $AB$  касается первой окружности в точке  $A$ , а второй — в точке  $B$ . Прямая  $BK$  пересекает первую окружность в точке  $D$ , прямая  $AK$  пересекает вторую окружность в точке  $C$ .

- а) Докажите, что прямые  $AD$  и  $BC$  параллельны.  
 б) Найдите площадь треугольника  $AKB$ , если известно, что радиусы окружностей равны 4 и 1.

17 15 января планируется взять кредит в банке на шесть месяцев в размере 1 млн рублей. Условия его возврата таковы:

- 1-го числа каждого месяца долг увеличивается на  $r$  процентов по сравнению с концом предыдущего месяца, где  $r$  — **целое** число;
- со 2-го по 14-е число каждого месяца необходимо выплатить часть долга;
- 15-го числа каждого месяца долг должен составлять некоторую сумму в соответствии со следующей таблицей.

Дата	15.01	15.02	15.03	15.04	15.05	15.06	15.07
Долг (в млн рублей)	1,0	0,6	0,4	0,3	0,2	0,1	0

Найдите наибольшее значение  $r$ , при котором общая сумма выплат будет меньше 1,2 млн рублей.

18 Найдите все положительные значения  $a$ , при каждом из которых система

$$\begin{cases} (|x| - 5)^2 + (y - 4)^2 = 9, \\ (x + 2)^2 + y^2 = a^2 \end{cases}$$

имеет единственное решение.

19 В школах № 1 и № 2 учащиеся писали тест. Из каждой школы тест писали, по крайней мере, 2 учащихся, а суммарно тест писали 9 учащихся. Каждый учащийся, писавший тест, набрал натуральное количество баллов. Оказалось, что в каждой школе средний балл за тест был целым числом. После этого один из учащихся, писавших тест, перешёл из школы № 1 в школу № 2, а средние баллы за тест были пересчитаны в обеих школах.

- а) Мог ли средний балл в школе № 1 уменьшиться в 10 раз?  
 б) Средний балл в школе № 1 уменьшился на 10%, средний балл в школе № 2 также уменьшился на 10%. Мог ли первоначальный средний балл в школе № 2 равняться 7?  
 в) Средний балл в школе № 1 уменьшился на 10%, средний балл в школе № 2 также уменьшился на 10%. Найдите наименьшее значение первоначального среднего балла в школе № 2.



Проверьте, что каждый ответ записан рядом с номером соответствующего задания.

**Система оценивания экзаменационной работы по математике (профильный уровень)**

Каждое из заданий 1–12 считается выполненными верно, если экзаменуемый дал верный ответ в виде целого числа или конечной десятичной дроби. Каждое верно выполненное задание оценивается 1 баллом.

Номер задания	Правильный ответ
1	8
2	4
3	6
4	0,08
5	9
6	64
7	4
8	4
9	-0,96
10	751
11	5
12	-5

**Решения и критерии оценивания заданий 13–19**

Количество баллов, выставленных за выполнение заданий 13–19, зависит от полноты решения и правильности ответа.

Общие требования к выполнению заданий с развёрнутым ответом: решение должно быть математически грамотным, полным; все возможные случаи должны быть рассмотрены. **Методы решения, формы его записи и формы записи ответа могут быть разными. За решение, в котором обоснованно получен правильный ответ, выставляется максимальное количество баллов. Правильный ответ при отсутствии текста решения оценивается в 0 баллов.**

**Эксперты проверяют только математическое содержание представленного решения, а особенности записи не учитывают.**

При выполнении задания могут использоваться без доказательства и ссылок любые математические факты, содержащиеся в учебниках и учебных пособиях, входящих в Федеральный перечень учебников, рекомендуемых к использованию при реализации имеющих государственную аккредитацию образовательных программ среднего общего образования.

**13**

а) Решите уравнение

$$2\sin\left(x + \frac{\pi}{3}\right) + \cos 2x = \sqrt{3}\cos x + 1.$$

б) Укажите корни этого уравнения, принадлежащие отрезку  $\left[-3\pi; -\frac{3\pi}{2}\right]$ .

**Решение.** а) Запишем исходное уравнение в виде:

$$\sin x + \sqrt{3}\cos x + 1 - 2\sin^2 x = \sqrt{3}\cos x + 1; \sin x - 2\sin^2 x = 0; \sin x \cdot (2\sin x - 1) = 0.$$

Значит,  $\sin x = 0$ , откуда  $x = \pi k$ ,  $k \in \mathbb{Z}$ , или  $\sin x = \frac{1}{2}$ , откуда  $x = \frac{\pi}{6} + 2\pi n$ ,  $n \in \mathbb{Z}$ ,

или  $x = \frac{5\pi}{6} + 2\pi m$ ,  $m \in \mathbb{Z}$ .

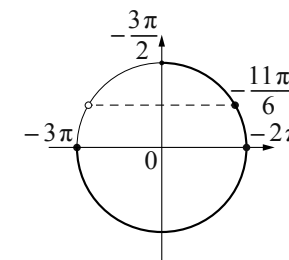
б) С помощью числовой окружности отберём корни, принадлежащие отрезку  $\left[-3\pi; -\frac{3\pi}{2}\right]$ .

Получим числа:  $-3\pi$ ;  $-2\pi$ ;  $-\frac{11\pi}{6}$ .

**Ответ:** а)  $\pi k$ ,  $k \in \mathbb{Z}$ ;  $\frac{\pi}{6} + 2\pi n$ ,  $n \in \mathbb{Z}$ ;

$$\frac{5\pi}{6} + 2\pi m, m \in \mathbb{Z};$$

$$\text{б) } -3\pi; -2\pi; -\frac{11\pi}{6}.$$



Содержание критерия	Баллы
Обоснованно получены верные ответы в обоих пунктах	2
Обоснованно получен верный ответ в пункте а, ИЛИ получены неверные ответы из-за вычислительной ошибки, но при этом имеется верная последовательность всех шагов решения обоих пунктов: пункта а и пункта б	1
Решение не соответствует ни одному из критериев, перечисленных выше	0
<i>Максимальный балл</i>	2

- 14** Все рёбра правильной треугольной призмы  $ABCA_1B_1C_1$  имеют длину 6. Точки  $M$  и  $N$  — середины рёбер  $AA_1$  и  $A_1C_1$  соответственно.
- а) Докажите, что прямые  $BM$  и  $MN$  перпендикулярны.
- б) Найдите угол между плоскостями  $BMN$  и  $ABB_1$ .

**Решение.** а) Пусть точка  $H$  — середина  $AC$ . Тогда

$$BN^2 = BH^2 + NH^2 = (3\sqrt{3})^2 + 6^2 = 63.$$

Вместе с тем

$$BM^2 + MN^2 = (3^2 + 6^2) + (3^2 + 3^2) = 63,$$

а тогда по теореме, обратной теореме Пифагора, треугольник  $BMN$  является прямоугольным с прямым углом  $M$ .

б) Проведём перпендикуляр  $NP$  к прямой  $A_1B_1$ . Тогда  $NP \perp A_1B_1$  и  $NP \perp A_1A$ . Следовательно,  $NP \perp ABB_1$ . Поэтому  $MP$  — проекция  $MN$  на плоскость  $ABB_1$ .

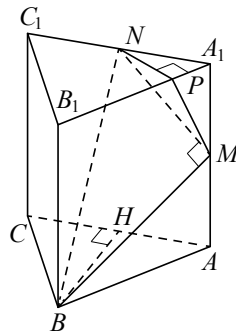
Прямая  $BM$  перпендикулярна  $MN$ , тогда по теореме о трёх перпендикулярах  $BM \perp MP$ . Следовательно, угол  $NMP$  — линейный угол искомого угла.

Длина  $NP$  равна половине высоты треугольника  $A_1B_1C_1$ , то есть  $NP = \frac{3\sqrt{3}}{2}$ .

$$\text{Поэтому } \sin \angle NMP = \frac{NP}{MN} = \frac{3\sqrt{3}}{2 \cdot 3\sqrt{2}} = \frac{\sqrt{3}}{\sqrt{8}}.$$

Следовательно,  $\angle NMP = \arcsin \sqrt{\frac{3}{8}}$ .

**Ответ:** б)  $\arcsin \sqrt{\frac{3}{8}}$ .



Содержание критерия	Баллы
Обоснованно получены верные ответы в пунктах а и б	2
Выполнен только один из пунктов – а или б	1
Решение не соответствует ни одному из критериев, приведённых выше	0
<i>Максимальный балл</i>	2

**15**

Решите неравенство  $\log_{11}(8x^2 + 7) - \log_{11}(x^2 + x + 1) \geq \log_{11}\left(\frac{x}{x+5} + 7\right)$ .

**Решение.** Правая часть неравенства определена при  $x < -5$  и  $x > -\frac{35}{8}$ .

Поскольку при любых значениях  $x$  выражение  $8x^2 + 7$  принимает положительные значения, при  $x < -5$  и  $x > -\frac{35}{8}$  неравенство принимает вид:

$$\frac{8x^2 + 7}{x^2 + x + 1} \geq \frac{8x + 35}{x + 5}, \quad \frac{8x^3 + 40x^2 + 7x + 35}{(x + 5)(x^2 + x + 1)} \geq \frac{8x^3 + 43x^2 + 43x + 35}{(x + 5)(x^2 + x + 1)};$$

$$\frac{3x^2 + 36x}{(x + 5)(x^2 + x + 1)} \leq 0; \quad \frac{3x(x + 12)}{(x + 5)(x^2 + x + 1)} \leq 0,$$

откуда  $x \leq -12$ ;  $-5 < x \leq 0$ . Учитывая ограничения  $x < -5$  и  $x > -\frac{35}{8}$ ,

получаем:  $x \leq -12$ ;  $-\frac{35}{8} < x \leq 0$ .

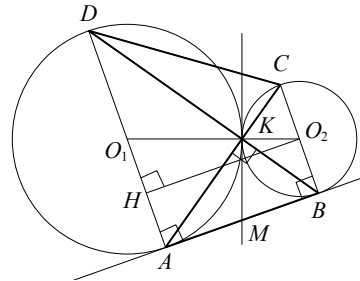
**Ответ:**  $(-\infty; -12]$ ;  $(-\frac{35}{8}; 0]$ .

Содержание критерия	Баллы
Обоснованно получен верный ответ	2
Обоснованно получен ответ, отличающийся от верного исключением точек $-12$ и/или $0$ , ИЛИ получен неверный ответ из-за вычислительной ошибки, но при этом имеется верная последовательность всех шагов решения	1
Решение не соответствует ни одному из критериев, перечисленных выше	0
<i>Максимальный балл</i>	2

**16** Две окружности касаются внешним образом в точке  $K$ . Прямая  $AB$  касается первой окружности в точке  $A$ , а второй — в точке  $B$ . Прямая  $BK$  пересекает первую окружность в точке  $D$ , прямая  $AK$  пересекает вторую окружность в точке  $C$ .

- а) Докажите, что прямые  $AD$  и  $BC$  параллельны.  
 б) Найдите площадь треугольника  $AKB$ , если известно, что радиусы окружностей равны 4 и 1.

**Решение.** а) Обозначим центры окружностей  $O_1$  и  $O_2$  соответственно. Пусть общая касательная, проведённая к окружностям в точке  $K$ , пересекает  $AB$  в точке  $M$ . По свойству касательных, проведённых из одной точки,  $AM = KM$  и  $KM = BM$ . Треугольник  $AKB$ , у которого медиана равна половине стороны, к которой она проведена, прямоугольный.



Вписанный угол  $AKD$  прямой, поэтому он опирается на диаметр  $AD$ . Значит,  $AD \perp AB$ . Аналогично, получаем, что  $BC \perp AB$ . Следовательно, прямые  $AD$  и  $BC$  параллельны.

б) Пусть, для определённости, первая окружность имеет радиус 4, а вторая — радиус 1.

Треугольники  $BKC$  и  $AKD$  подобны,  $\frac{AD}{BC} = 4$ . Пусть  $S_{BKC} = S$ , тогда  $S_{AKD} = 16S$ .

У треугольников  $AKD$  и  $AKB$  общая высота, следовательно,  $\frac{S_{AKD}}{S_{AKB}} = \frac{DK}{KB} = \frac{AD}{BC}$ , то есть  $S_{AKB} = 4S$ . Аналогично,  $S_{CKD} = 4S$ . Площадь трапеции  $ABCD$  равна  $25S$ . Вычислим площадь трапеции  $ABCD$ . Проведём к  $AD$  перпендикуляр  $O_2H$ , равный высоте трапеции, и найдём его из прямоугольного треугольника  $O_2HO_1$ :

$$O_2H = \sqrt{O_1O_2^2 - O_1H^2} = 4.$$

Тогда

$$S_{ABCD} = \frac{AD + BC}{2} \cdot AB = 20.$$

Следовательно,  $25S = 20$ , откуда  $S = 0,8$  и  $S_{AKB} = 4S = 3,2$ .

**Ответ:** 3,2.

Содержание критерия	Баллы
Имеется верное доказательство утверждения пункта $a$ , и обоснованно получен верный ответ в пункте $b$	3
Получен обоснованный ответ в пункте $b$ , ИЛИ имеется верное доказательство утверждения пункта $a$ , и при обоснованном решении пункта $b$ получен неверный ответ из-за арифметической ошибки	2
Имеется верное доказательство утверждения пункта $a$ , ИЛИ при обоснованном решении пункта $b$ получен неверный ответ из-за арифметической ошибки, ИЛИ обоснованно получен верный ответ в пункте $b$ с использованием утверждения пункта $a$ , при этом пункт $a$ не выполнен	1
Решение не соответствует ни одному из критериев, приведённых выше	0
<i>Максимальный балл</i>	3

**17** 15-го января планируется взять кредит в банке на шесть месяцев в размере 1 млн рублей. Условия его возврата таковы:  
 — 1-го числа каждого месяца долг увеличивается на  $r$  процентов по сравнению с концом предыдущего месяца, где  $r$  — целое число;  
 — со 2-го по 14-е число каждого месяца необходимо выплатить часть долга;  
 — 15-го числа каждого месяца долг должен составлять некоторую сумму в соответствии со следующей таблицей.

Дата	15.01	15.02	15.03	15.04	15.05	15.06	15.07
Долг (в млн рублей)	1	0,6	0,4	0,3	0,2	0,1	0

Найдите наибольшее значение  $r$ , при котором общая сумма выплат будет меньше 1,2 млн рублей.

**Решение.** По условию, долг перед банком (в млн рублей) на 15-е число каждого месяца должен уменьшаться до нуля следующим образом:

1; 0,6; 0,4; 0,3; 0,2; 0,1; 0.

Пусть  $k = 1 + \frac{r}{100}$ , тогда долг на 1-е число каждого месяца равен:

$k; 0,6k; 0,4k; 0,3k; 0,2k; 0,1k$ .

Следовательно, выплаты со 2-го по 14-е число каждого месяца составляют:

$k - 0,6; 0,6k - 0,4; 0,4k - 0,3; 0,3k - 0,2; 0,2k - 0,1; 0,1k$ .

Общая сумма выплат составляет:

$$k(1 + 0,6 + 0,4 + 0,3 + 0,2 + 0,1) - (0,6 + 0,4 + 0,3 + 0,2 + 0,1) = (k - 1)(1 + 0,6 + 0,4 + 0,3 + 0,2 + 0,1) + 1 = 2,6(k - 1) + 1.$$

По условию, общая сумма выплат будет меньше 1,2 млн рублей, значит,

$$2,6(k - 1) + 1 < 1,2; 2,6 \cdot \frac{r}{100} + 1 < 1,2; r < 7 \frac{9}{13}.$$

Наибольшее целое решение этого неравенства — число 7. Значит, искомое число процентов — 7.

**Ответ:** 7.

Содержание критерия	Баллы
Обоснованно получен верный ответ	3
Верно построена математическая модель, решение сведено к исследованию этой модели и получен результат: — неверный ответ из-за вычислительной ошибки; — верный ответ, но решение недостаточно обосновано	2
Верно построена математическая модель, решение сведено к исследованию этой модели, при этом решение может быть не завершено	1
Решение не соответствует ни одному из критериев, перечисленных выше	0
<i>Максимальный балл</i>	3

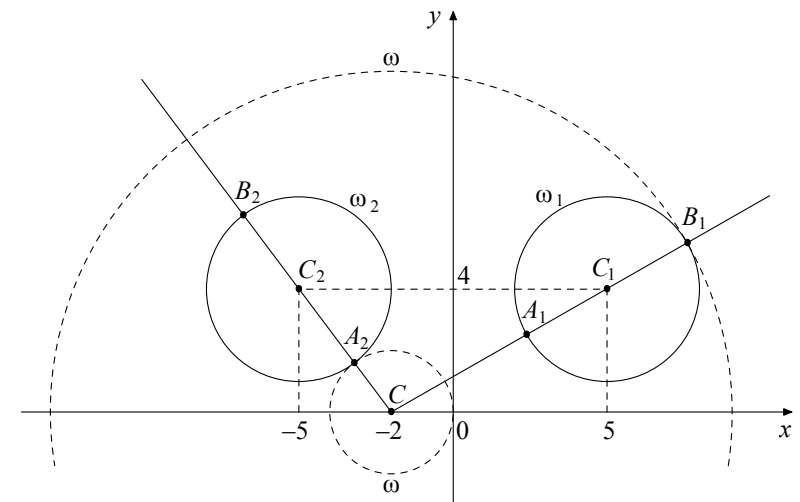
**18** Найдите все положительные значения  $a$ , при каждом из которых система

$$\begin{cases} (|x-5| - 2)^2 + (y-4)^2 = 9, \\ (x+2)^2 + y^2 = a^2 \end{cases}$$

имеет единственное решение.

**Решение.** Если  $x \geq 0$ , то уравнение  $(|x-5| - 2)^2 + (y-4)^2 = 9$  задаёт окружность  $\omega_1$  с центром в точке  $C_1(5; 4)$  радиусом 3, а если  $x < 0$ , то оно задаёт окружность  $\omega_2$  с центром в точке  $C_2(-5; 4)$  таким же радиусом (см. рисунок).

При положительных значениях  $a$  уравнение  $(x+2)^2 + y^2 = a^2$  задаёт окружность  $\omega$  с центром в точке  $C(-2; 0)$  радиусом  $a$ . Поэтому задача состоит в том, чтобы найти все значения  $a$ , при каждом из которых окружность  $\omega$  имеет единственную общую точку с объединением окружностей  $\omega_1$  и  $\omega_2$ .



Из точки  $C$  проведём луч  $CC_1$  и обозначим через  $A_1$  и  $B_1$  точки его пересечения с окружностью  $\omega_1$ , где  $A_1$  лежит между  $C$  и  $C_1$ . Так как

$$CC_1 = \sqrt{(5+2)^2 + 4^2} = \sqrt{65}, \text{ то } CA_1 = \sqrt{65} - 3, CB_1 = \sqrt{65} + 3.$$

При  $a < CA_1$  или  $a > CB_1$  окружности  $\omega$  и  $\omega_1$  не пересекаются.

При  $CA_1 < a < CB_1$  окружности  $\omega$  и  $\omega_1$  имеют две общие точки.

При  $a = CA_1$  или  $a = CB_1$  окружности  $\omega$  и  $\omega_1$  касаются.



Из точки  $C$  проведём луч  $CC_2$  и обозначим через  $A_2$  и  $B_2$  точки его пересечения с окружностью  $\omega_2$ , где  $A_2$  лежит между  $C$  и  $C_2$ . Так как  $CC_2 = \sqrt{(-5+2)^2 + 4^2} = 5$ , то  $CA_2 = 5 - 3 = 2$ ,  $CB_2 = 5 + 3 = 8$ .

При  $a < CA_2$  или  $a > CB_2$  окружности  $\omega$  и  $\omega_2$  не пересекаются.

При  $CA_2 < a < CB_2$  окружности  $\omega$  и  $\omega_2$  имеют две общие точки.

При  $a = CA_2$  или  $a = CB_2$  окружности  $\omega$  и  $\omega_2$  касаются.

Исходная система имеет единственное решение тогда и только тогда, когда окружность  $\omega$  касается ровно одной из двух окружностей  $\omega_1$  и  $\omega_2$  и не пересекается с другой. Так как  $CA_2 < CA_1 < CB_2 < CB_1$ , то условию задачи удовлетворяют только числа  $a = 2$  и  $a = \sqrt{65} + 3$ .

**Ответ:** 2;  $\sqrt{65} + 3$ .

Содержание критерия	Баллы
Обоснованно получен верный ответ	4
С помощью верного рассуждения получены оба верных значения параметра, но – или в ответ включены также и одно-два неверных значения; – или решение недостаточно обосновано	3
С помощью верного рассуждения получено хотя бы одно верное значение параметра	2
Задача сведена к исследованию: – или взаимного расположения трёх окружностей; – или двух квадратных уравнений с параметром	1
Решение не соответствует ни одному из критериев, перечисленных выше	0
<i>Максимальный балл</i>	4

19

В школах № 1 и № 2 учащиеся писали тест. Из каждой школы тест писали, по крайней мере, 2 учащихся, а суммарно тест писали 9 учащихся. Каждый учащийся, писавший тест, набрал натуральное количество баллов. Оказалось, что в каждой школе средний балл за тест был целым числом. После этого один из учащихся, писавших тест, перешёл из школы № 1 в школу № 2, а средние баллы за тест были пересчитаны в обеих школах.

а) Мог ли средний балл в школе № 1 уменьшиться в 10 раз?

б) Средний балл в школе № 1 уменьшился на 10%, средний балл в школе № 2 также уменьшился на 10%. Мог ли первоначальный средний балл в школе № 2 равняться 7?

в) Средний балл в школе № 1 уменьшился на 10%, средний балл в школе № 2 также уменьшился на 10%. Найдите наименьшее значение первоначального среднего балла в школе № 2.

**Решение.** а) Пусть в школе № 1 писали тест 2 учащихся, один из них набрал 1 балл, а второй набрал 19 баллов и перешёл в школу № 2. Тогда средний балл в школе № 1 уменьшился в 10 раз.

б) Пусть в школе № 2 писали тест  $m$  учащихся, средний балл равнялся  $B$ , а перешедший в неё учащийся набрал  $u$  баллов. Тогда получаем:

$$u = 0,9(m+1)B - mB; 10u = (9-m)B.$$

Если  $B = 7$ , то  $(9-m)B$  не делится на 10, а  $10u$  делится на 10. Но это невозможно, поскольку  $10u = (9-m)B$ .

в) Пусть в школе № 1 средний балл равнялся  $A$ . Тогда получаем:

$$u = (9-m)A - 0,9(8-m)A; 10u = (18-m)A = (9-m)B.$$

Заметим, что если  $B = 1$  или  $B = 3$ , то  $10u = (9-m)B$  не делится на 10. Если  $B = 2$  или  $B = 4$ , то  $m = 4$ . В первом случае  $14A = 10$ , а во втором  $14A = 20$ . Значит, ни один из этих случаев не возможен.

При  $B = 5$  и  $m = 3$  получаем  $u = 3$  и  $A = 2$ . Этот случай реализуется, например, если в школе № 1 писали тест 6 учащихся, 3 из них набрали по 1 баллу, а 3 — по 3 балла, в школе № 2 писали тест 3 учащихся и каждый набрал по 5 баллов, а у перешедшего из одной школы в другую учащегося — 3 балла.

**Ответ:** а) да; б) нет; в) 5.

Содержание критерия	Баллы
Верно получены все перечисленные (см. критерий на 1 балл) результаты	4
Верно получены три из перечисленных (см. критерий на 1 балл) результатов	3
Верно получены два из перечисленных (см. критерий на 1 балл) результатов	2
Верно получен один из следующих результатов: – обоснованное решение пункта а; – обоснованное решение пункта б; – искомая оценка в пункте в; – пример в пункте в, обеспечивающий точность предыдущей оценки	1
Решение не соответствует ни одному из критериев, перечисленных выше	0
<i>Максимальный балл</i>	4

В соответствии с Порядком проведения государственной итоговой аттестации по образовательным программам среднего общего образования (приказ Минобрнауки России от 26.12.2013 № 1400 зарегистрирован Минюстом России 03.02.2014 № 31205)

«61. По результатам первой и второй проверок эксперты независимо друг от друга выставляют баллы за каждый ответ на задания экзаменационной работы ЕГЭ с развёрнутым ответом...

62. В случае существенного расхождения в баллах, выставленных двумя экспертами, назначается третья проверка. Существенное расхождение в баллах определено в критериях оценивания по соответствующему учебному предмету.

Эксперту, осуществляющему третью проверку, предоставляется информация о баллах, выставленных экспертами, ранее проверявшими экзаменационную работу».

Существенными считаются следующие расхождения:

1) расхождение в баллах, выставленных двумя экспертами за выполнение любого из заданий 13–19, составляет 2 или более балла. В этом случае третий эксперт проверяет только то задание, которое было оценено двумя экспертами со столь существенным расхождением.

2) расхождения экспертов при оценивании ответов на хотя бы два из заданий 13–19. В этом случае третий эксперт проверяет ответы на все задания работы.